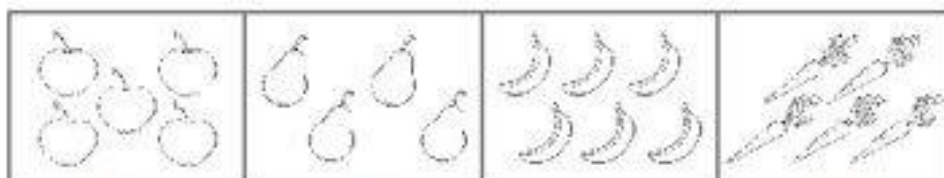



Ćwiczenie nr 1. Wykonaj zgodnie z poleceniem

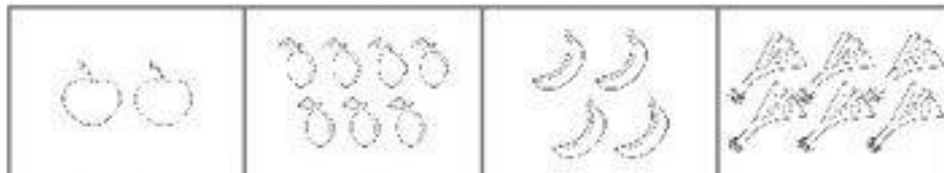
● Pokoloruj warzywa i owoce. Policz, ile w każdej skrzynce znajduje się warzyw lub owoców. Zapisz.



Four empty boxes for recording the count of items in the row above.



Four empty boxes for recording the count of items in the row above.



Four empty boxes for recording the count of items in the row above.

Ile jest razem gruszek? 

--	--	--	--	--	--	--	--	--	--	--	--	--	--	--	--	--	--	--	--

Ile jest razem bananów? 

--	--	--	--	--	--	--	--	--	--	--	--	--	--	--	--	--	--	--	--

Ile jest razem marchewek? 

--	--	--	--	--	--	--	--	--	--	--	--	--	--	--	--	--	--	--	--

Ile jest razem jabłek? 

--	--	--	--	--	--	--	--	--	--	--	--	--	--	--	--	--	--	--	--



Ćwiczenie nr 2. Wykonaj zgodnie z poleceniem

Zadanie 1

Ala ma



Zjadła



Ile zostało?

Zadanie 2

Staś ma



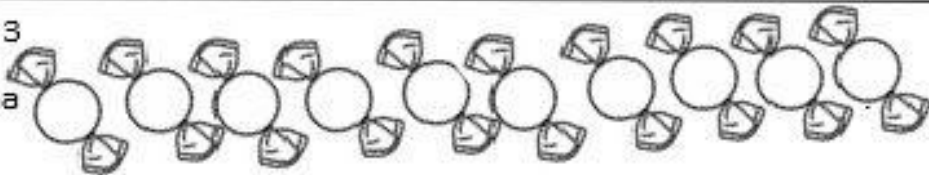
Dostał od mamy



Ile ma teraz?

Zadanie 3

Adam ma



Zjadł



Ile ma teraz?

Zadanie 4

Ania ma

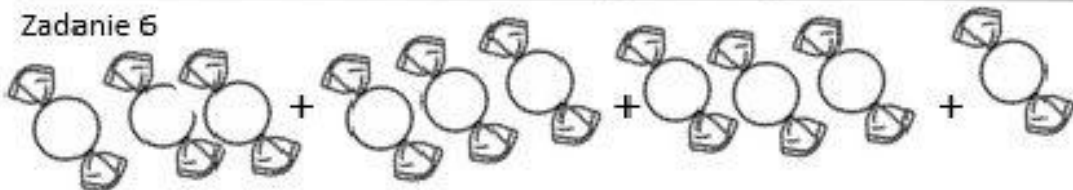


Dostała od taty  
ma teraz?



Ile

Zadanie 6



..... + ..... + ..... + ..... =