











31.05.21 2B - RW - Terapia pedagogiczna - Doskonalenie liczenia – zestaw ćwiczeń.

Ćwiczenie nr 1. Policz przedstawione obrazki. Zaznacz ilość.


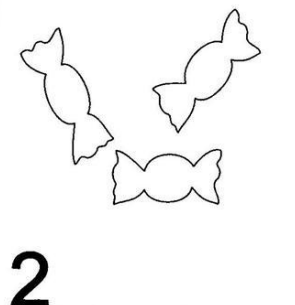



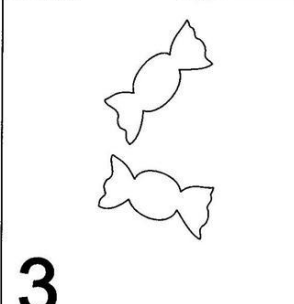
Policz elementy po lewej stronie i zakreśl odpowiednią liczbę po stronie prawej.

	1 2 3 4 5 6 7 8 9 10
	1 2 3 4 5 6 7 8 9 10
	1 2 3 4 5 6 7 8 9 10
	1 2 3 4 5 6 7 8 9 10
	1 2 3 4 5 6 7 8 9 10
	1 2 3 4 5 6 7 8 9 10
	1 2 3 4 5 6 7 8 9 10
	1 2 3 4 5 6 7 8 9 10
	1 2 3 4 5 6 7 8 9 10
	1 2 3 4 5 6 7 8 9 10


Ćwiczenie nr 2. Dorysuj lub skreśl. Otocz pętlą po cztery piłki.

KOMNATA LICZB

Dorysuj lub skreśl.

 3	 2	 4
 1	 4	 3











Otocz pętlą po cztery piłki.



Ćwiczenie nr 3. Rozwiąż działania pamiętając, że każdej figurze odpowiada jedna cyfra.

Geometryczne dodawanie

Rozwiąż działania, pamiętając, że każdej figurze odpowiada jedna cyfra.
Aby ułatwić sobie zadanie, poszczególne liczby wpisz do środka każdej figury.





									
1	2	3	4	5	6	7	8	9	10

A  +  +  +  =

B  +  +  +  =

C  +  +  +  =

D  +  +  +  =

E  +  +  +  =

F  +  +  +  =

