


**Temat: Polska i jej sąsiedzi.**

Rozetnij etykiety. Uzupełnij tekst.



The map shows Poland (POLSKA) in the center, with its capital Warsaw (Warszawa) marked. Neighboring countries are labeled: NIEMCY (Germany) to the west, CZECHY (Czechia) to the southwest, SŁOWACJA (Slovakia) to the south, UKRAINA (Ukraine) to the south, BIAŁORUŚ (Belarus) to the east, and ROSJA (Russia) to the northeast. The Baltic Sea (Morze Bałtyckie) is to the north. Neighboring countries are also labeled with their flags: NIEMCY, CZECHY, SŁOWACJA, UKRAINA, BIAŁORUŚ, ROSJA, and LITWA (Lithuania). The map is surrounded by dashed lines representing labels for neighboring countries: Rosją, Białorusią, Ukrainą, Niemcami, Słowacją, Litwą, and Czechami.

Polaska graniczy z 7 państwami oraz Morzem Bałtyckim. Na północy graniczy z Morzem Bałtyckim

i

Na wschodzie z

i



Na południu ze

i

Na zachodzie z

Rozetnij karty 20, 21, 22 i 23. Dopasuj zdjęcia, flagi i etykiety. Przyklej na kartce, skseruj. Kopie wklej do zeszytu. Zaprojektuj okładkę przewodnika. Zalaminuj i zbinduj.

ROSJA	LITWA	BIAŁORUŚ
UKRAINA	SŁOWACJA	CZECZY
NIEMCY	POLSKA	Moskwa
Wilno	Mińsk	Kijów
Bratysława	Praga	Berlin
Warszawa	cepeliny	placki ziemniaczane
	kluski z bryndzą	bliny
	barszcz	gulasz z knedlikami
	golonka	pierogi







Opracowała, Svitlana Pavlenko